

INTRODUCCIÓN

La Universidad de Chile entrega a la comunidad educacional un Modelo de una forma de prueba semejante a la que se aplicará en el Proceso de Admisión 2021, que a partir de este año es administrado por el nuevo Sistema de Acceso a la Educación Superior, a cargo de la Subsecretaría de Educación Superior del Ministerio de Educación.

La portada de este Modelo contiene las instrucciones que aparecen en los folletos de cada forma de Prueba de Transición para la Admisión Universitaria a rendir.

El objetivo de esta publicación es poner a disposición de los estudiantes, profesores, orientadores y público en general, un ejemplar de prueba que contribuya al conocimiento de este instrumento de medición educacional.

Las preguntas aquí publicadas están referidas a contenidos y habilidades correspondientes a los elementos comunes entre el Marco Curricular Ajustado 2009 y las Bases Curriculares implementación 2020, las cuales han sido aplicadas en diversos Procesos de Pilotaje y Procesos de Admisión; por lo tanto, constituyen un material fidedigno e idóneo para el conocimiento de la estructura y contenidos de la prueba.

Cabe destacar que, al momento de definir los contenidos y habilidades a evaluar, se consideraron los siguientes aspectos: los criterios de pertinencia, relevancia y equidad, para una prueba de altas consecuencias, como la Prueba de Transición para la Admisión Universitaria, la implementación progresiva de las Bases Curriculares de 7° básico a IV medio en los establecimientos educacionales, a partir del año 2015, la continuación del Ajuste Curricular 2009, para los niveles de III y IV medio, durante el año académico 2019 y la priorización de contenidos realizada por el Ministerio de Educación acorde con la suspensión de clases en establecimientos educacionales por causa de la pandemia de coronavirus.

Este Modelo de prueba ha sido elaborado por el Departamento de Evaluación, Medición y Registro Educacional (DEMRE) dependiente de la Vicerrectoría de Asuntos Académicos de la Universidad de Chile, siendo de exclusiva propiedad intelectual de la universidad. El material podrá ser utilizado sin fines comerciales, manteniendo la integridad de su contenido y reconociendo su fuente y autor. Para citar este documento deberá indicarse: DEMRE / Universidad de Chile (2020). Modelo de Prueba de Historia y Ciencias Sociales.

Disponible en <https://demre.cl/publicaciones/modelos-resoluciones-pruebas>

Propiedad Intelectual Universidad de Chile.
Derechos reservados ©. Prohibida su reproducción total o parcial.

FORMACIÓN CIUDADANA

1. “¡Concretamente 110 años! Se instaló inicialmente en el parque de bomberos de Livermore, en California y ha sobrevivido a un siglo convulso, viendo cambiar el mundo que ilumina. Construida por la Shelby Electric Company, esta ampolleta incandescente ostenta el récord mundial de durabilidad de una bombilla, comprobada y certificada en diversas ocasiones por agentes externos tan variopintos como la compañía General Electric o el World Record Guinness”. (www.esencialblog.es).

El párrafo anterior describe el caso inverso del fenómeno global denominado obsolescencia programada. En este sentido, ¿cuál es la principal finalidad que persigue este último fenómeno?

- A) Abaratar el costo de los repuestos.
- B) Favorecer el reciclaje de material en desuso.
- C) Desincentivar la producción de insumos tecnológicos.
- D) Fomentar la demanda creciente de los productos.
- E) Mejorar el soporte técnico como solución.

2. El concepto desarrollo sostenible se basa en la premisa de satisfacer las necesidades de las generaciones presentes sin comprometer a las generaciones futuras. Respecto a la necesidad de alcanzar dicho propósito y, a la vez, favorecer un mayor crecimiento y desarrollo económico, ¿qué desafío se le presenta al Estado chileno?

- A) Priorizar la obtención de ganancias a partir de la explotación de recursos no renovables.
- B) Incrementar los puestos de trabajo en el sector primario de la economía.
- C) Promover modelos de consumo basados en el uso responsable de los recursos naturales.
- D) Suprimir la importación de bienes originados mediante la producción industrial.
- E) Aumentar la compra de combustibles fósiles provenientes de otros países.

3. El acuerdo adoptado en la XXI Conferencia Internacional sobre Cambio Climático que se celebró en París en el año 2015 será aplicado a partir del año 2020. Entre los resultados esperados está reducir el calentamiento global en una cifra igual o superior a dos grados centígrados, por medio de la disminución de los gases de efecto invernadero. Considerando lo anterior, ¿cuál es la medida que contribuye directamente al logro de este objetivo?
- A) Establecer leyes para proteger el bosque nativo.
 - B) Conservar los glaciares existentes en el sur del país.
 - C) Disminuir la contaminación de las aguas marinas.
 - D) Reducir la utilización de combustibles fósiles.
 - E) Intensificar la actividad agroalimentaria.
4. La Convención Marco de las Naciones Unidas sobre el Cambio Climático entiende este proceso como atribuido directa o indirectamente a la actividad humana que altera la composición de la atmósfera mundial y que se suma a la variabilidad natural del clima observada durante periodos de tiempo comparables. En este contexto, ¿cuál de las siguientes opciones constituye una consecuencia que se puede observar en el territorio nacional chileno producto del cambio climático?
- A) La reducción de las temperaturas máximas registradas en la Zona Central.
 - B) El incremento de los niveles de agua en lagos y lagunas de alta montaña.
 - C) El aumento de la desertificación por la pérdida de propiedades de los suelos.
 - D) El aumento de la productividad de las aguas marinas y, por tanto, de la pesca.
 - E) La disminución de las lluvias costeras en relación a las de zonas interiores.

5. La Organización para la Cooperación y el Desarrollo Económicos (OCDE) ha sido una de las primeras instituciones que ha estudiado las implicancias económicas de las acciones emprendidas para revertir las emisiones de gases de efecto invernadero. Esta organización ha sido un actor fundamental en las rondas de negociación sobre cambio climático. Considerando que Chile es miembro de la OCDE, ¿cuál es una de las principales iniciativas que debe llevar a cabo el Estado chileno para reducir estas emisiones?
- A) Instaurar una institucionalidad medioambiental.
 - B) Promover la extracción de minerales metálicos.
 - C) Relocalizar progresivamente las industrias contaminantes.
 - D) Extender la restricción vehicular en las principales ciudades.
 - E) Aumentar la generación de energía a partir de fuentes limpias.
6. En Chile, diversos cauces de agua superficiales están siendo sometidos a una carga cada vez mayor de residuos y desechos de todo tipo, muchos de los cuales son altamente tóxicos, lo que representa un riesgo permanente para la salud humana. En este contexto, ¿cuál es el principal desafío que debe enfrentar el manejo de los recursos hídricos en Chile?
- A) Desincentivar el consumo industrial del agua aumentando su precio.
 - B) Modificar el modelo de gestión del agua propiciando su uso racional.
 - C) Potenciar el consumo de agua envasada en la población.
 - D) Fiscalizar la producción de agua potable domiciliaria.
 - E) Valorar la homogeneidad de las reservas de agua.

7. “Considerado como un paradigma regional, el modelo desarrollado por el Gobierno chileno logró reducir a mínimos el déficit cuantitativo de viviendas y prácticamente universalizar la cobertura de servicios básicos en áreas urbanas. Con una orientación de mercado, el Estado se valió de subsidios directos a los hogares para que pudieran adquirir una vivienda social nueva producida por el sector privado, un mecanismo que en los años ochenta fue innovador. Este esquema incorporó la desregulación sobre localización, diseño y estándares de las viviendas, y la liberalización normativa del suelo”. (ONU-HABITAT, **Estado de las ciudades de América Latina y el Caribe**, 2012).

El texto anterior describe las bases de la política habitacional aplicada en Chile por distintos gobiernos desde 1980, con el objetivo de satisfacer la demanda de viviendas nuevas para la población de menores ingresos. ¿Qué impactos ha producido la implementación de esta política en distintas ciudades chilenas, fundamentalmente en las de mayor tamaño?

- A) La construcción de nuevos barrios con viviendas de tamaño reducido.
- B) La concentración de las distintas funciones urbanas en la periferia.
- C) La devaluación de los terrenos para la edificación de viviendas.
- D) La disminución de los desplazamientos al interior de la urbe.
- E) La planificación estatal de las distintas actividades sociales.

8. En Chile, la industrialización y la expansión económica, junto con la masificación de medios de transporte y los procesos de edificación en las últimas dos décadas, han propiciado el desarrollo de grandes centros urbanos, los cuales se han transformado en los principales productores de basura a nivel nacional. Considerando lo anterior, ¿cuál es la principal causa que explica la problemática de los residuos sólidos en las ciudades?

- A) El crecimiento urbano de las ciudades intermedias.
- B) El aumento de la población en áreas metropolitanas.
- C) El incremento del consumo de productos de origen orgánico.
- D) La inexistencia de campañas de reciclaje en las comunas.
- E) La falta de políticas nacionales para el tratamiento de desechos.

9. La realidad geográfica de la ocupación del territorio implica una serie de peligros latentes que, combinados con focos de vulnerabilidad incrementan los niveles de riesgo. En este sentido, ¿cuál es el principal factor que propicia que los espacios urbanos chilenos sean potenciales áreas de riesgo de desastre por ocurrencia de fenómenos naturales?
- A) La disminución de los territorios para uso agrícola y ganadero.
 - B) La concentración de los barrios populares en el centro.
 - C) La debilidad de los instrumentos de ordenamiento territorial.
 - D) La escasa reinversión de los recursos generados en la propia región.
 - E) La falta de autonomía de los gobiernos regionales.

10. “Los resultados de la IV Encuesta Auditoría a la Democracia, realizada por el Programa de las Naciones Unidas para el Desarrollo muestran una situación paradójica. Por un lado, la democracia sigue siendo el régimen de gobierno preferido por los chilenos (6 de cada 10 encuestados), a la vez que aumentan al doble quienes consideran que funciona mal o muy mal (de un 20% el 2012 a un 40% el 2016)”. (Marcela Ríos y Sebastián Madrid, 11 octubre 2016, en **El Mostrador**).

El texto anterior hace referencia a la percepción de la Democracia por parte de la población en Chile, desde la década de 2000. ¿Cuál es uno de los efectos de esta percepción en la política chilena?

- A) Limita la expresión de la soberanía popular.
- B) Favorece la sobrerrepresentación de las minorías políticas.
- C) Dificulta la aparición de nuevas corrientes políticas.
- D) Fortalece a los grupos políticos tradicionales.
- E) Disminuye la participación electoral.

11. Las Organizaciones No Gubernamentales (ONGs) son instituciones sin fines de lucro que han jugado un rol importante en la promoción de la participación ciudadana, constituyéndose en espacios donde las personas pueden articular sus demandas, dar soluciones a problemáticas o incluso defender sus valores. En este contexto, ¿cuál es la principal contribución de estas organizaciones al fortalecimiento de la democracia en Chile?
- A) Influir en la modificación de las políticas públicas.
 - B) Velar por los intereses de los partidos políticos.
 - C) Obligar al Ejecutivo a modificar las leyes con fines económicos.
 - D) Aprobar los proyectos de los partidos políticos.
 - E) Sancionar el incumplimiento de los programas de gobierno.
12. La participación ciudadana a nivel de base, como por ejemplo en las asambleas estudiantiles o vecinales, requiere informarse previamente. ¿Qué característica debe tener esta información para que sea un aporte a la participación ciudadana?
- A) Debe ser de carácter confidencial.
 - B) Debe originarse en la prensa escrita.
 - C) Debe estar orientada a los dirigentes.
 - D) Debe establecer jerarquías de opinión.
 - E) Debe relacionarse con las decisiones a debatir.
13. Los partidos políticos son actores relevantes para el funcionamiento de cualquier sociedad democrática. En este contexto, ¿cuál es una de las principales funciones de los partidos políticos?
- A) Aprobar o rechazar las leyes que rigen el sistema político.
 - B) Propiciar el diálogo entre la ciudadanía y las instituciones estatales.
 - C) Plebiscitar sus propuestas ante la ciudadanía.
 - D) Votar por los cambios al sistema electoral.
 - E) Conducir a la ciudadanía en las relaciones diplomáticas.

14. “Justicia vecinal es un programa desarrollado por el Ministerio de Justicia que busca acercar a la ciudadanía formas de resolución de conflictos vecinales y comunitarios, de una manera ágil, transparente y eficiente. Bajo estándares modernos, basados en experiencias nacionales e internacionales, el programa de justicia vecinal pone a disposición de las personas un modelo de atención que involucra a profesionales altamente calificados/as en los siguientes mecanismos: Mediación, Arbitraje, Derivaciones”. (www.minjusticia.gob.cl, 2015).

El texto anterior describe un mecanismo de defensa de los derechos ciudadanos impulsado por el Ministerio de Justicia chileno en el año 2011. De acuerdo a la información presentada, ¿cuál es el objetivo que persigue este tipo de iniciativas?

- A) Mejorar el acceso a la justicia para todas las personas.
 - B) Resolver los conflictos penales en los tribunales vecinales.
 - C) Favorecer la creación de tribunales compuestos por vecinos.
 - D) Traspasar las causas civiles archivadas a este tipo de instancias.
 - E) Generar un vínculo entre los jueces y los distintos actores sociales.
15. El conflicto entre algunos pueblos originarios y el Estado de Chile ha estado presente a lo largo de la Historia nacional. Los gobiernos del siglo XX abordaron de diferentes maneras este problema, asumiendo una serie de desafíos frente a las demandas de estas comunidades. Considerando el conjunto de los pueblos originarios, ¿cuál es una de las principales demandas que sostienen actualmente?
- A) La creación de una institución pública que fomente el desarrollo indígena.
 - B) La generación de oportunidades educacionales a nivel universitario.
 - C) La consideración de su presencia en la historia nacional.
 - D) El reconocimiento legal de su autonomía territorial.
 - E) El derecho a formar parte de partidos políticos tradicionales.

16. En los inicios del siglo XXI, en Chile diversos actores políticos y sociales han estado envueltos en una intensa disputa con diversos grupos que buscan un mejor reconocimiento de sus derechos. ¿Qué acción concreta, convertida en ley, ha resuelto en alguna medida parte de estas demandas?
- A) La aprobación de un acuerdo que permite la unión legal entre personas del mismo sexo.
 - B) El reconocimiento legal del libre consumo y comercio de la marihuana y otras drogas.
 - C) La legalización de la adopción de hijos por parte de parejas de un mismo sexo.
 - D) La promulgación de una ley que permite el aborto sin una causa determinada.
 - E) La autorización del matrimonio entre personas del mismo sexo.
17. El Estado chileno está comprometido con el fortalecimiento, la promoción y la protección de los Derechos Humanos, así como con el desarrollo de una cultura de respeto y no discriminación. En este contexto, ¿cuál(es) de las siguientes situaciones pone(n) en evidencia la labor comprometida por el Estado chileno?
- I) La aplicación de la perspectiva de equidad de género en el diseño de las políticas públicas.
 - II) La implementación de incentivos para favorecer la contratación de personas con discapacidad en empleos permanentes.
 - III) La ampliación de la cobertura del sistema de subsidio habitacional.
- A) Solo I
 - B) Solo II
 - C) Solo I y III
 - D) Solo II y III
 - E) I, II y III

18. El Estado chileno ha suscrito diversos acuerdos internacionales en materia de Derechos Humanos. De esta manera, Chile se compromete a respetar y promover el respeto de estos derechos. En el contexto de las relaciones internacionales, ¿con qué situación se asocia este accionar del Estado chileno?
- A) El aumento de las leyes que regulan las relaciones entre el Estado y la ciudadanía.
 - B) El sometimiento de la soberanía nacional a los intereses de organismos supranacionales.
 - C) El debilitamiento de las instituciones del Estado en materia de Derechos Humanos.
 - D) La progresiva consolidación de un orden jurídico del cual participa con varias naciones.
 - E) La consolidación de mejores condiciones para negociar acuerdos comerciales.

19. “El 24 de septiembre de 2014, la Presidenta Michelle Bachelet se comprometió ante la Asamblea de la ONU que nuestro país iba a contribuir a la cultura de la solidaridad, compromiso que se concreta con la llegada de este primer grupo de refugiados sirios que estará en Chile entre octubre y noviembre próximos”. (www.cooperativa.cl).

La noticia muestra el compromiso del Estado chileno en el orden jurídico internacional, reflejado en la aceptación de refugiados. En este contexto, ¿qué rasgo de la democracia chilena se desprende de la noticia?

- A) La libertad para desarrollar distintas actividades diplomáticas.
- B) La promoción de derechos esenciales de las personas.
- C) La participación ciudadana en distintos espacios de expresión política.
- D) El mejoramiento de la calidad de vida de los habitantes del país.
- E) El acceso equitativo a servicios básicos para la población.

20. A partir de la década de 1990, Chile comenzó a experimentar un mayor crecimiento económico y mayor estabilidad política, lo que atrajo población migrante proveniente de países latinoamericanos que se ha incorporado mayoritariamente a trabajos precarios y a los sectores sociales más vulnerables. En relación directa a este fenómeno, ¿qué desafío ha surgido para el Estado de Chile?
- A) Extender el sistema de subcontratación laboral a toda la población económicamente activa.
 - B) Imponer la participación femenina en el mercado formal del trabajo.
 - C) Limitar el envío de remesas de dinero desde y hacia el extranjero.
 - D) Establecer cuotas de inmigración con el resto de los países.
 - E) Perfeccionar las normativas migratorias para garantizar el respeto de los derechos de las personas.
21. Actualmente los medios de comunicación tienen un lugar cada vez más relevante en la actividad política chilena. En este sentido, la relación de los ciudadanos con el sistema político se produce, fundamentalmente, a través de los flujos de contenidos generados por el intercambio de información, debates y el diálogo democrático. En este contexto, ¿qué rol desempeñan los medios de comunicación en los procesos electorales en Chile?
- A) Elaboran el contenido del programa político de los candidatos.
 - B) Facilitan la realización de debates políticos entre los candidatos.
 - C) Determinan el monto de los gastos económicos de las campañas.
 - D) Establecen la duración del periodo de campaña de los postulantes.
 - E) Definen el segmento de población al que se dirige la propaganda política.

22. El sufragio es el derecho político y constitucional, a elegir, por medio del voto, quiénes van a ocupar los distintos cargos públicos elegibles. Al respecto, la Constitución de la República de Chile señala lo siguiente: “Artículo 15.- En las votaciones populares, el sufragio será personal, igualitario, secreto y voluntario”. Considerando lo anterior, ¿cuál de las siguientes afirmaciones es correcta respecto del sufragio en Chile?
- A) Es universal porque incorpora al conjunto de los residentes en el territorio.
 - B) Es voluntario ya que se puede optar por renunciar a este derecho.
 - C) Es igualitario al interior de cada una de las comunidades votantes.
 - D) Es secreto para evitar la entrega de información durante el proceso.
 - E) Es personal porque este derecho es intransferible.
23. En las primeras elecciones primarias municipales que fueron realizadas el 19 de junio de 2016, participó un 5,6% del total de personas que podían votar. Considerando esta información, ¿qué desafío plantea esta abstención al Estado chileno para fortalecer la democracia en Chile?
- A) Mejorar el procedimiento para efectuar el sufragio.
 - B) Modificar el sistema electoral volviendo al voto obligatorio.
 - C) Incrementar la popularidad de los líderes de los partidos políticos.
 - D) Promover estrategias para estimular la participación electoral.
 - E) Aumentar los recursos disponibles para el Servicio Electoral.
24. En el ámbito electoral chileno, el Modelo Proporcional Inclusivo puso fin al Sistema Binominal, que estuvo vigente desde 1990 a 2015, mejorando la representación política de la ciudadanía. Considerando lo anterior, ¿cuál de las siguientes opciones constituyó una motivación para generar este cambio en el sistema electoral?
- A) Incentivar la realización de elecciones primarias.
 - B) Distribuir el poder político en más de dos coaliciones.
 - C) Regular la creación de nuevos partidos políticos.
 - D) Disminuir la cantidad de escaños parlamentarios.
 - E) Garantizar la reelección indefinida de los legisladores.

HISTORIA EN PERSPECTIVA: MUNDO, AMÉRICA Y CHILE

25. En los inicios de la historia republicana chilena y durante todo el siglo XIX, la economía nacional se basó principalmente en la producción y exportación de minerales. Paralelamente, el Estado organizó sus finanzas y la administración de sus riquezas sobre la base de los principios del liberalismo. En este contexto, ¿cuál de las siguientes acciones llevó a cabo el Estado durante ese periodo?
- A) La instauración de un sistema de financiamiento estatal a la minería.
 - B) La transformación del modelo colonial de explotación del sistema agrario.
 - C) La articulación del sistema financiero robusto a través de un banco central.
 - D) La modernización de las leyes tributarias para mejorar la recaudación fiscal.
 - E) La implementación de medidas proteccionistas al conjunto de la economía.

26. “En las discusiones a que ha dado lugar este interés y en los acuerdos con que pueden terminar, se ha juzgado la ocasión propicia para afirmar, como un principio que afecta a los derechos e intereses de los Estados Unidos, que los continentes americanos, por la condición de libres e independientes que han adquirido y mantienen, no deben en lo adelante ser considerados como objetos de una colonización futura por ninguna potencia europea”. (**La Doctrina de Monroe Fragmento del Séptimo Mensaje Anual del Presidente James Monroe al Congreso el 2 de diciembre de 1823**).

El texto, corresponde a un fragmento de la Doctrina Monroe, la cual definió las relaciones de Estados Unidos con América Latina. Según su análisis, ¿en cuál de los siguientes aspectos tuvieron su origen estas relaciones?

- A) En la necesidad de establecer un tratado de derecho internacional entre Estados Unidos y las naciones americanas.
- B) En el recelo de Estados Unidos a la expansión y hegemonía de potencias extranjeras en el continente.
- C) En la preocupación de Estados Unidos por el progreso material de las antiguas colonias españolas.
- D) En el interés estadounidense por decidir aspectos de la política interna de los países recién independizados.
- E) En la implementación de una política estadounidense de ocupación territorial de los países hispanoamericanos.

27. Desde los primeros años de organización republicana y durante las primeras décadas del siglo XIX, la presencia de extranjeros en Chile fue un factor decisivo en distintas áreas del quehacer nacional. De las siguientes afirmaciones, ¿cuál(es) corresponde(n) a acciones llevadas a cabo por los extranjeros en Chile durante el siglo XIX?

- I) La colonización de vastas zonas agroganaderas en el sur del territorio.
- II) La inversión de capital en obras de transporte e infraestructura pública.
- III) La realización de aportes científicos a través de las instituciones de educación superior.

- A) Solo I
- B) Solo II
- C) Solo I y II
- D) Solo II y III
- E) I, II y III

28. La Constitución de 1833 permitió al incipiente Estado chileno definir un nuevo orden institucional, estableciendo bases políticas que definieron, entre otros aspectos, los atributos del Gobierno y las formas de participación política y social. En este sentido, ¿cuál fue una de las características de este ordenamiento jurídico?

- A) La extensión de la ciudadanía a la mayoría de la población.
- B) La tolerancia a la práctica pública de distintos credos religiosos.
- C) La concentración de los poderes públicos en el Poder Legislativo.
- D) La creación de una autoridad ejecutiva dotada de amplios poderes.
- E) La formación de un Estado laico desvinculado de la Iglesia Católica.

29. Durante el siglo XIX en Chile, en el marco del proceso de construcción del Estado independiente, se llevó a efecto la exploración geográfica del país. ¿Cuál fue el propósito de esta iniciativa?

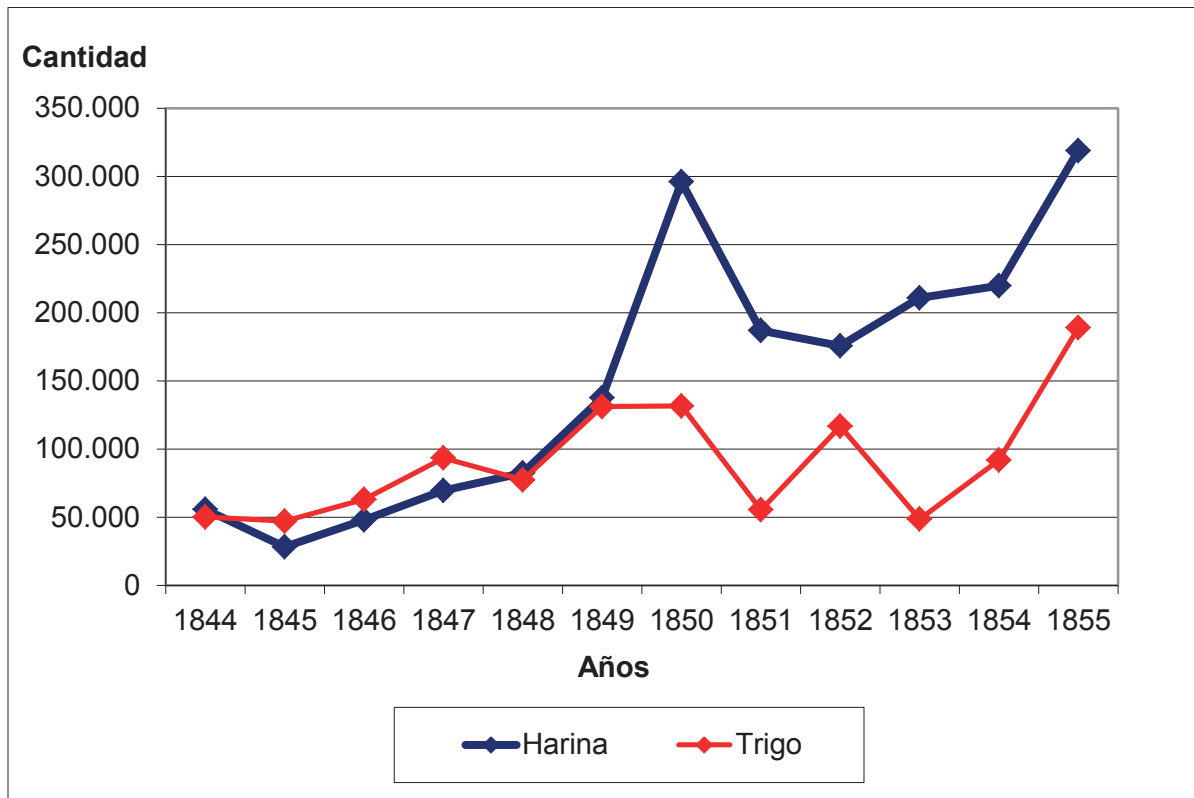
- A) Garantizar la defensa militar de las fronteras del nuevo Estado.
- B) Reconocer los recursos naturales y definir los límites del territorio.
- C) Promover el transporte naviero como principal medio de comunicación.
- D) Asegurar la explotación estatal de las riquezas minerales del territorio.
- E) Incentivar la producción de bienes manufacturados en el territorio.

30. “La igualdad de la libertad, es la religión universal; es el gobierno de la humanidad; es la unidad futura. La libertad es infinita, es el complemento y la cúspide de la creación humana; luego la igualdad que no tiene otro límite que la misma libertad, es el enlace, la formación de la comprensibilidad de la felicidad del bien absoluto. De aquí sacaremos nosotros la teoría que deben tener las sociedades y gobiernos”. (Francisco Bilbao, **Sociabilidad Chilena**, 1844).

El fragmento anterior corresponde a un texto político de Francisco Bilbao, escrito hacia mediados del siglo XIX. De su análisis y considerando el periodo, ¿cuál fue una idea defendida por el autor?

- A) Promovió un Estado fuerte protector y garante de la seguridad de sus ciudadanos.
- B) Incentivó la búsqueda del orden y el equilibrio a través del ejercicio de la religión cristiana.
- C) Planteó la reactivación económica de Chile basada en el libre comercio.
- D) Defendió y promocionó los ideales políticos que constituyeron el régimen portaliano.
- E) Propuso organizar un sistema político basado en los principios del liberalismo.

31. CHILE: EXPORTACIÓN DE HARINA Y TRIGO, 1844- 1855 (en quintales)



(En base a Carmen Cariola y Osvaldo Sunkel,
Un siglo de historia económica de Chile, 1830-1930)

El gráfico anterior muestra una fase de crecimiento de las exportaciones chilenas de trigo y harina entre 1844 y 1855. En este periodo, ¿cuál fue uno de los factores que motivaron este auge exportador de la producción agrícola en Chile?

- A) El aumento de las importaciones en Francia.
- B) La ampliación del consumo en Centroamérica.
- C) El crecimiento de la demanda en los países asiáticos.
- D) El incremento del consumo en Sudamérica.
- E) La demanda de alimentos de California y Australia.

32. Con la finalidad de fomentar el progreso en Chile, los diversos gobiernos y los empresarios impulsaron la implementación de la red férrea en el territorio en la segunda mitad del siglo XIX. En este sentido, ¿cuál fue el principal propósito de la extensión de la red ferroviaria?
- A) Unir los centros productivos del país con las ciudades y puertos para agilizar el comercio interno y externo.
 - B) Incrementar el traslado de los productos mineros y agropecuarios hacia las zonas rurales.
 - C) Fomentar el arraigo de los extranjeros al ofrecer nuevas fuentes laborales en los sectores agroganaderos.
 - D) Restablecer el comercio internacional con los países vecinos exportando productos manufacturados, especialmente al Perú.
 - E) Facilitar la colonización de los territorios al sur de Puerto Montt para asegurar la soberanía del país.

33.



(<http://static3.sobrehistoria.com/>)

El Imperialismo fue un fenómeno que se desarrolló con gran intensidad entre la segunda mitad del siglo XIX y los primeros años del siglo XX. Consistió en la hegemonía que diferentes potencias occidentales establecieron en sus relaciones con importantes regiones de África y Asia y que incluyó la dominación directa de extensos territorios. ¿Cuál es una característica del Imperialismo que se observa en la fotografía?

- A) La subordinación de la población local ante los europeos.
- B) La superioridad militar de los occidentales sobre la población originaria.
- C) El monopolio comercial ejercido por las metrópolis sobre sus colonias.
- D) La evangelización realizada por misioneros entre los habitantes locales.
- E) El aumento de fuentes de trabajo debido a la llegada de los europeos.

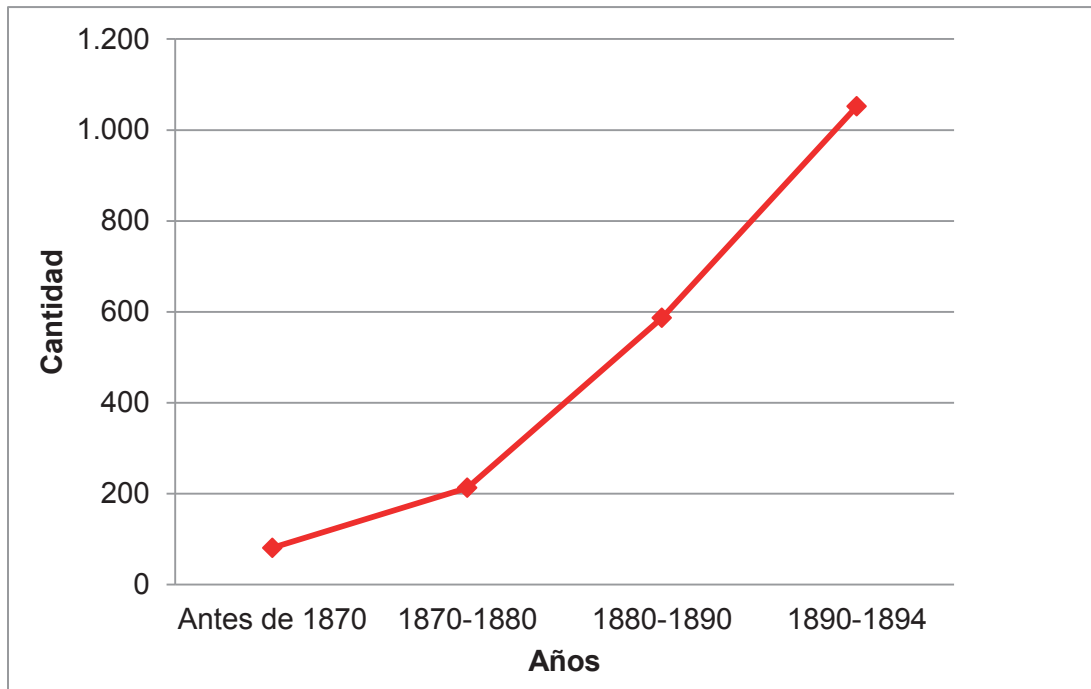
34. En las últimas décadas del siglo XIX se definieron gran parte de los límites del Territorio Nacional de Chile, con la anexión de las provincias del Norte Grande, pero renunciando a la posesión de extensos territorios en el extremo Sur. Al respecto, ¿qué característica tenían los territorios hacia donde Chile dirigió su expansión?
- A) Contaban con bases militares que facilitaban la ocupación.
 - B) Permitían una colonización rápida con extranjeros.
 - C) Facilitaban la ampliación de las zonas agrícolas.
 - D) Favorecían la descentralización administrativa del país.
 - E) Poseían un potencial exportador de materias primas.
35. En Chile, durante la segunda mitad del siglo XIX y principios del siglo XX se observó un creciente proceso de proletarización de una parte de la fuerza de trabajo. ¿Cuál es uno de los factores que explican este proceso?
- A) El desarrollo de una economía altamente vinculada al sistema capitalista mundial.
 - B) La influencia de las formas de trabajo campesinas en las nuevas actividades industriales urbanas.
 - C) La creación de un sector manufacturero controlado por el Estado.
 - D) La ausencia de inversiones tecnológicas incorporadas al sistema productivo.
 - E) La decadencia del sindicalismo como forma de organización de los trabajadores.

36. “En los cementerios sujetos a la administración del Estado o de las Municipalidades, no podrá impedirse, por ningún motivo, la inhumación [entierro] de los cadáveres de las personas que hayan adquirido o adquieran sepulturas particulares o de familia, ni la inhumación de los pobres de solemnidad”. (Ley de Cementerios Laicos aprobada por el Congreso Nacional, 2 de agosto de 1883).

El párrafo anterior es un extracto de una ley aprobada en 1883, y refleja la evolución política que se desarrolló en Chile durante la segunda mitad del siglo XIX. ¿En qué proceso o acontecimiento de dicho periodo se enmarca esta ley?

- A) En el aumento de las facultades entregadas a los gobiernos locales para tomar decisiones sobre higiene y modernización urbana.
- B) En el conflicto creciente entre los poderes del Estado en torno a las regulaciones impuestas a las propiedades de la Iglesia Católica.
- C) En la inversión de las ganancias provenientes de los impuestos al salitre en la construcción de los primeros recintos funerarios.
- D) En el influjo de las teorías librecambistas en el financiamiento de los espacios públicos de administración estatal.
- E) En la disminución del poder eclesiástico sobre la sociedad civil debido a las reformas emprendidas por los gobiernos liberales.

37. ESTABLECIMIENTOS INDUSTRIALES EN SANTIAGO DE CHILE, 1870-1894



(Boletín de la estadística industrial de la República de Chile, 1894-1895)

El gráfico anterior muestra el crecimiento que tuvieron los establecimientos industriales del Departamento de Santiago, a fines del siglo XIX. Del análisis de dicho gráfico y considerando el contexto histórico, ¿cuál(es) de las siguientes inferencias es (son) correcta(s) respecto del comportamiento de estos establecimientos?

- I) La creación de nuevas industrias se aceleró a partir de la Guerra del Pacífico.
 - II) La actividad fabril se vio estimulada por la riqueza salitrera.
 - III) El proceso industrializador disminuyó al comenzar la República Parlamentaria.
- A) Solo I
 - B) Solo II
 - C) Solo III
 - D) Solo I y II
 - E) I, II y III

38. La crisis política de 1891 en Chile es un proceso histórico que ha suscitado diversas interpretaciones desde la historiografía. Una de ellas, pone en un lugar central el conflicto institucional entre los poderes Ejecutivo y Legislativo. Al respecto, ¿cuál de las siguientes afirmaciones corresponde a dicha interpretación?
- A) Fue un enfrentamiento provocado por las políticas antimonopólicas del gobierno balmacedista.
 - B) Fue un levantamiento de los parlamentarios para evitar el fortalecimiento del rol del Presidente de la República.
 - C) Fue un intento de Balmaceda de llevar a cabo una revolución para debilitar a los empresarios ingleses del salitre.
 - D) Fue un conflicto en que los sectores populares apoyaron al Presidente enrolándose en el ejército.
 - E) Fue una crisis política originada por la contraposición entre el librecambismo y el proteccionismo.
39. La celebración del Centenario de la República de Chile estuvo acompañada por el surgimiento de una crítica sobre las condiciones sociales y políticas del país. ¿Cuál fue una de las principales causas que motivaron esta crítica?
- A) Los conflictos sociales que se agudizaban ante la mirada indiferente de la elite.
 - B) La disminución de las inversiones públicas realizadas por parte del Estado.
 - C) El malestar de la opinión pública generado por la cesión de territorios a países vecinos.
 - D) La ausencia de políticas estatales para promover el acceso a la educación.
 - E) La molestia de la elite ante la creciente movilización de las clases populares.

40. DEUDAS EUROPEAS CON ESTADOS UNIDOS, 1919 (en millones de dólares)

País	Millones de dólares
Inglaterra	4.600
Francia	4.025
Italia	2.040
Bélgica	420
Polonia	180
Checoslovaquia	115
Yugoslavia	65
Rumania	45
TOTAL	11.490

(**Nou Temps**, Barcelona, 2001).

Una de las consecuencias de la Primera Guerra Mundial fue la disminución del poderío británico en el mundo y el surgimiento de Estados Unidos como actor protagónico. En este contexto y a partir del análisis del cuadro presentado, ¿cuál de las siguientes afirmaciones permite comprender esta situación?

- A) Los países europeos se endeudaron en gran medida debido a la pérdida de sus territorios coloniales.
- B) La deuda de Inglaterra provocó una dependencia económica respecto de Estados Unidos que se expandió a lo cultural y lo político.
- C) El otorgamiento de créditos por parte de Estados Unidos durante la Guerra fortaleció su economía, posicionándolo como una nueva potencia.
- D) El desplazamiento de los refugiados de la Guerra activó la industria estadounidense, provocando un rápido crecimiento económico.
- E) La política estadounidense durante la Guerra estimuló su mercado interno al competir con los capitales británicos en los territorios coloniales.

41. “Consulados y embajadas promocionaban filmes comerciales, como ocurrió en Valparaíso en 1924 cuando se exhibió en el teatro Colón la película **Historia de un automóvil**, producida nada menos que por el Departamento de Comercio de Estados Unidos con miras a potenciar la exportación de vehículos norteamericanos”. (Fernando Purcell, **¡De Película! Hollywood y su impacto en Chile 1910-1950**).

¿A qué fenómeno característico del periodo de Entreguerras alude la cita anterior?

- A) A la hegemonía militar norteamericana con posterioridad al triunfo de la Primera Guerra Mundial.
- B) Al reemplazo de los productos industriales europeos por los productos asiáticos en los mercados internacionales.
- C) Al liderazgo estadounidense en la creación de organismos diplomáticos.
- D) A la creciente influencia del estilo de vida estadounidense en el mundo, a través de diversas manifestaciones culturales.
- E) Al éxito de la política neoliberal de los gobiernos de Estados Unidos promoviendo los mercados internacionales.

42. Entre 1924 y 1932, Chile experimentó un periodo de profundas convulsiones políticas, sociales y económicas que pusieron fin a la hegemonía política de la oligarquía. ¿Cuál fue una de las soluciones que se implementaron para superar esta situación?


- A) Fortalecer las facultades del Poder Ejecutivo.
- B) Declarar ilegal la existencia de organizaciones sindicales.
- C) Reducir la función social del Estado.
- D) Entregar poder político constitucionalmente a las Fuerzas Armadas.
- E) Minimizar el poder de los partidos políticos.

43. A fines de la década de 1920, la primera administración de Carlos Ibáñez del Campo declaró ilegal al Partido Comunista y los demás partidos políticos fueron obligados a integrarse al Gobierno y a conformar un Congreso designado por el Ejecutivo. ¿Qué objetivo tenían estas medidas políticas del Gobierno de Ibáñez?
- A) Potenciar la formación del Frente Popular.
 - B) Integrar a la Iglesia Católica al Gobierno.
 - C) Establecer un control del sistema político.
 - D) Evitar nuevas sublevaciones militares.
 - E) Asegurar el apoyo de la oligarquía.
44. La crisis económica de 1929 afectó a todo el mundo, pero de manera diferente a las diversas regiones, según sus contextos de desarrollo económico y situación político-social. En el corto plazo, ¿qué proceso experimentó transversalmente América del Sur producto de esta crisis?
- A) El redireccionamiento de las exportaciones de materias primas hacia los mercados de Asia.
 - B) El desarrollo de modernos centros portuarios que atendían el comercio de las costas atlántica y pacífica.
 - C) El incremento de la deuda externa e interna de los Estados respecto de la banca y organismos internacionales.
 - D) La diversificación de la inversión extranjera en los sectores secundario y terciario de la economía.
 - E) La privatización de la industria estratégica en favor de grupos empresariales estadounidenses y europeos.

45. La crisis mundial de 1929 afectó profundamente a Chile, por lo que el Estado chileno tuvo que modificar la orientación de su política económica, aspecto que se materializó hacia fines de la década de 1930. De esta manera, para evitar el impacto de nuevas crisis mundiales, el Estado procuró realizar una transformación estructural de la economía. Al respecto, ¿en qué actividad se centró el modelo implementado?

- A) La explotación de los recursos forestales.
- B) La inversión de los capitalistas extranjeros.
- C) La exportación de productos no tradicionales.
- D) El desarrollo del sector manufacturero e industrial.
- E) La reconversión productiva de las oficinas salitreras.

46.



(www.historyonthenet.com)



(www.inquiriesjournal.com)

El totalitarismo es un sistema político e ideológico que se manifestó con mucha fuerza en la primera mitad del siglo XX. A partir de los conceptos propios de dicho sistema, ¿qué rasgo de los totalitarismos se evidencia en las fotografías precedentes?

- A) El aspecto monumental de los actos de masas.
- B) Las expresiones propias de la lucha de clases.
- C) La notoria participación política de diversos grupos étnicos.
- D) La vigilancia social del Estado policial.
- E) La masiva presencia del mundo campesino.

47. La Organización de Naciones Unidas (ONU) es una institución fundada el 24 de octubre de 1945 como reemplazo del proyecto iniciado en 1919 con la Sociedad de las Naciones. Considerando esta situación, ¿qué objetivo(s) fue (fueron) compartido(s) por ambas organizaciones?

- I) Mantener la paz y seguridad entre los países del mundo.
- II) Declarar ilegal cualquier tipo de enfrentamiento bélico.
- III) Desarrollar bloques entre países para preservar el equilibrio económico.

- A) Solo I
- B) Solo II
- C) Solo I y II
- D) Solo I y III
- E) Solo II y III

48. “Considerando que el desconocimiento y el menosprecio de los derechos humanos han originado actos de barbarie ultrajantes para la conciencia de la humanidad; y que se ha proclamado, como la aspiración más elevada del hombre, el advenimiento de un mundo en que los seres humanos, liberados del temor y de la miseria, disfruten de la libertad de palabra y de la libertad de creencias [...] La Asamblea General proclama la presente Declaración Universal de Derechos Humanos como ideal común por el que todos los pueblos y naciones deben esforzarse, a fin de que tanto los individuos como las instituciones, inspirándose constantemente en ella, promuevan, mediante la enseñanza y la educación, el respeto a estos derechos y libertades”. (**Declaración Universal de Derechos Humanos**, 1948, En <http://www.ohchr.org/EN/UDHR>).

La Declaración Universal de los Derechos Humanos, proclamada por la Asamblea General de las Naciones Unidas el 10 de diciembre de 1948, es valorada como el hito más importante en la universalización de los Derechos Humanos durante el siglo XX. Considerando el texto citado y el contexto histórico previo a dicha Declaración, ¿qué idea política se consideró que atentaba contra la dignidad y los Derechos Humanos?

- A) La soberanía de origen divino que reconocía en una dinastía el poder legítimo.
- B) La revolución del proletariado que permitía establecer un gobierno popular.
- C) La soberanía del pueblo que validaba un régimen democrático representativo.
- D) Las políticas genocidas aplicadas por algunos regímenes totalitarios.
- E) La rebelión de los grupos oprimidos que buscaban anular al Estado.

49. En la segunda mitad del siglo XX el mundo sufrió un profundo reordenamiento político como consecuencia de la Segunda Guerra Mundial. En este contexto histórico, ¿cuál(es) de los siguientes fenómenos políticos se produjo/produjeron?
- I) La intervención de las potencias hegemónicas en la conformación de los nuevos estados.
 - II) El fortalecimiento del comunismo en Europa Occidental como ideología dominante.
 - III) La búsqueda de nuevas formas de dominio como estrategia de las grandes potencias.
- A) Solo III
 - B) Solo I y II
 - C) Solo I y III
 - D) Solo II y III
 - E) I, II y III

50. “El colonialismo y sus derivados no constituyen, a decir verdad, los enemigos actuales de África. En breve plazo, este continente será liberado. Por mi parte, cuanto más penetro en las culturas y en los círculos políticos, más me hace certidumbre que el gran peligro que amenaza a África es la ausencia de ideología. [...] Con el triunfo del socialismo en la Europa Oriental asistimos a la desaparición espectacular de viejas rivalidades, de tradicionales reivindicaciones territoriales”. (Frantz Fanon, **Por la Revolución africana**, 1964).

La cita anterior alude a la relación entre el proceso de descolonización africana y las ideologías predominantes después de la Segunda Guerra Mundial. Considerando el contexto histórico y a partir del análisis del párrafo adjunto, ¿cuál es una conclusión correcta respecto del planteamiento del autor sobre el escenario internacional?

- A) El éxito de la descolonización de África radicaría en la ausencia de conflictos entre sus habitantes.
- B) La independencia de África y su opción por el nacionalismo, profundizaría los problemas limítrofes entre los nuevos estados.
- C) La ideología socialista permitiría una convivencia más estable para los nuevos estados africanos.
- D) La adhesión al liberalismo económico por parte de los nuevos estados africanos, garantizaría los procesos de independencia.
- E) La opción más viable sería la búsqueda del respaldo militar de Europa Occidental, garantizando así la estabilidad.

51. “Creo que es muy prematuro concederle el voto a la mujer [...] No porque sea una refractaria de ello, ¡eso no!, pero hay algo de lo que aún no se han dado cuenta y es la terrible ignorancia de la gente que vive de Santiago al sur, donde las mujeres piensan y hacen lo que los señores hacendados hacen, como he visto con espanto en las elecciones municipales, donde van a votar por el candidato del patrón y que estos apenas les han enseñado a firmar para tenerlas como instrumento en sus manejos políticos [...] entonces [hay que] tratar de formar la conciencia de nuestras pobres mujeres que hoy por hoy viven en la más compleja desvaloración maternal y moral”. (“Carta a ‘Miti’ Markman esposa del presidente, 1946”. En Ana María Stiven y Joaquín Fernandois, **Historia de las Mujeres en Chile**, 2013).

La cita alude al proceso para conseguir el sufragio femenino a mediados de siglo XX. A partir de su análisis y del contexto del periodo, ¿cuál es el problema social destacado por la autora de la carta, que afectaba especialmente a las mujeres del ámbito rural?

- A) La inexistencia de organizaciones sociales que lucharan por temas de género.
- B) Las altas tasas de analfabetismo que condicionaban su participación política.
- C) La fragmentación de la propiedad agraria con la consiguiente proletarización campesina.
- D) La restringida movilidad social experimentada en el mundo campesino.
- E) Los vicios sociales producidos en las zonas rurales alrededor de las ciudades.

52. Durante la Guerra Fría el mundo percibió la amenaza de una guerra nuclear como consecuencia del primer ataque con bombas atómicas sobre las ciudades de Hiroshima y Nagasaki en 1945. De acuerdo a lo anterior, ¿de qué manera se manifestó dicho peligro en América Latina?

- A) Con la instalación de misiles de la Unión Soviética en Cuba y el bloqueo a la isla impuesto por Estados Unidos.
- B) Con el desembarco de tropas norteamericanas en La Habana para derrocar al régimen de Fidel Castro.
- C) Con el fracaso de las negociaciones de desarme entre las superpotencias y los países de su órbita.
- D) Con el surgimiento de distintos grupos guerrilleros en América Latina, apoyados por Estados Unidos y la Unión Soviética.
- E) Con la disputa por el control de la Organización de Estados Americanos entre Estados Unidos y la Unión Soviética.

- 53.** En el contexto de la expansión del modelo de Estado de Bienestar en la segunda mitad del siglo XX, Estados Unidos y las sociedades europeas occidentales alcanzaron un nivel de desarrollo económico y social inédito. Al respecto, ¿cuál fue un proceso asociado a este desarrollo?
- A) El mejoramiento del acceso al sistema de salud para el conjunto de la población.
 - B) El logro de la independencia económica respecto de los mercados internacionales.
 - C) El fin de la conflictividad social por la paridad de género en los empleos públicos.
 - D) El control definitivo de los ciclos económicos recesivos que generaban cesantía.
 - E) El cierre de las centrales termonucleares que proveían energía al sector industrial.
- 54.** En toda América Latina, se dejó sentir con fuerza el impacto de la Revolución Cubana entre los partidos y movimientos de izquierda. Lo anterior, se manifestó en debates y discusiones respecto a las estrategias a seguir por parte de ese sector político para alcanzar el poder. En Chile, ¿cuál fue una manifestación de este proceso?
- A) El cambio de estrategia de diversos movimientos de izquierda que adhirieron a la vía armada.
 - B) La conformación de organizaciones definidas como político-militares y que adherían a dicha revolución.
 - C) La creciente radicalización de sectores importantes de las Fuerzas Armadas vinculados a grupos de izquierda.
 - D) El surgimiento de grupos armados de carácter rural que adherían al modelo cubano.
 - E) El rechazo unánime de los partidos y movimientos políticos a la estrategia representada por la vía armada.

55. “La creación del MINVU significó la centralización de la planificación habitacional y urbana a nivel país en sólo un organismo, desde el cual debía elaborar una política coherente y coordinada con los organismos crediticios, la comunidad, las empresas constructoras, los servicios de urbanización y con equipamientos adecuados”. (Álvaro Rivera, **Historia de la Política Habitacional en el Área Metropolitana de Santiago**, Revista CIS, 2012).

La cita anterior se refiere a la creación del Ministerio de Vivienda y Urbanismo, en 1965. De acuerdo a lo que se deduce de la cita y considerando el contexto de la historia nacional, ¿cuál fue una de las acciones que desarrolló el Estado chileno en relación con el proceso urbanizador experimentado en el país?

- A) La designación de entidades bancarias para promover el casco histórico de las ciudades.
- B) La focalización de la política de vivienda en la erradicación de los campamentos en zonas urbanas.
- C) El desarrollo de una legislación tendiente a detener el avance inmobiliario sobre los suelos cultivables.
- D) La fiscalización de los proyectos habitacionales diseñados por instituciones públicas regionales.
- E) El diseño de una estrategia global para enfrentar el déficit habitacional de las áreas urbanas.

56. “Los acontecimientos más espectaculares, sobre todo de los años sesenta y setenta, fueron las movilizaciones de sectores generacionales que, en países menos politizados, enriquecían a la industria discográfica, el 75-80 por 100 de cuya producción -a saber, música rock- se vendía casi exclusivamente a un público de entre catorce y veinticinco años [...] La radicalización política de los años sesenta, anticipada por contingentes reducidos de disidentes y automarginados culturales etiquetados de varias formas, perteneció a los jóvenes, que rechazaron la condición de niños o incluso de adolescentes (es decir, de personas todavía no adultas), al tiempo que negaban el carácter plenamente humano de toda generación que tuviese más de treinta años, con la salvedad de algún que otro gurú”. (Eric Hobsbawm, **Historia del siglo XX**, 1998).

El texto anterior se refiere a una de las transformaciones culturales del mundo occidental de posguerra. Según el autor, en base a este contexto, ¿qué característica(s) tuvo este proceso?

- I) La diferenciación identitaria de la juventud respecto de otros grupos etarios.
 - II) La capitalización de la emergente cultura juvenil por el mercado discográfico.
 - III) El surgimiento del sector joven como agente de cambio social.
- A) Solo I
 - B) Solo II
 - C) Solo I y III
 - D) Solo II y III
 - E) I, II y III

57. En la década de 1960, en Chile, el proceso de Industrialización por Sustitución de Importaciones (ISI) mostraba dificultades evidentes para progresar, afectando a diferentes áreas de la vida nacional. ¿Cuál(es) de los siguientes factores explica(n) esta crisis?

- I) La falta de mano de obra para sustentar el proceso de industrialización.
- II) La escasa capacidad tecnológica del país que le impidió prescindir de la importación de bienes de capital.
- III) El cierre de numerosas fábricas debido a las privatizaciones.

- A) Solo I
- B) Solo II
- C) Solo III
- D) Solo I y II
- E) Solo II y III

58. En la década de 1960 Estados Unidos y la Unión Soviética se vieron enfrentados por conflictos localizados en diversas partes del mundo. En Cuba, la consolidación del régimen liderado por Fidel Castro llevó a las grandes potencias a considerarlo como un triunfo o una derrota. ¿Por qué Estados Unidos vio a este gobierno como una amenaza a sus intereses?

- A) Porque debilitó su posición estratégica en las principales rutas comerciales de Centroamérica.
- B) Porque fue el primer régimen marxista latinoamericano que llegaba al poder por la vía de elecciones libres y democráticas.
- C) Porque le quitaba protagonismo en El Caribe convirtiéndose en un referente a nivel continental.
- D) Porque implicaba nueva competencia para los empresarios estadounidenses en las industrias del turismo y del tabaco.
- E) Porque instaló un líder político carismático que rivalizaba con John Kennedy, el presidente de Estados Unidos.

59. El proceso de Reforma Agraria chilena (1962-1973), se desarrolló en tres etapas correspondientes a los Gobiernos de Alessandri, Frei y Allende. ¿Cuál de los siguientes factores estuvo presente a lo largo de todo este proceso?
- A) Las tomas masivas de predios por parte de los inquilinos.
 - B) La organización de instituciones fiscales que realizaran la redistribución.
 - C) El apoyo de Estados Unidos en el desarrollo de la Reforma.
 - D) La presión ejercida por los sindicatos de campesinos.
 - E) La proletarización del campesinado.

60. **PROVINCIAS DE COQUIMBO A CHILOÉ: VARIACIÓN DE SUPERFICIE CULTIVADA EN PREDIOS AFECTADOS POR REFORMA AGRARIA ENTRE 1966 Y 1969^a**

Rubro	Superficie cultivada en los predios, antes de ser expropiados ^b	Superficie cultivada después de la expropiación ^c
Cereales	28.217,3	33.842,8
Chacras y cultivos industriales	17.729,0	30.054,5
Hortalizas	1.653,4	4.484,3
Frutales y viñas	3.951,9	5.250,2
Empastadas artificiales	31.146,9	25.689,4
Total	82.698,5	99.321,2

^a 457 predios ubicados entre las provincias de Coquimbo y Arauco.

^b Superficie cultivada en el año agrícola 1966/67.

^c Superficie cultivada en el año agrícola 1968/69.

(Elaborado en base a CORA (1970). Reforma Agraria Chilena, Santiago)

La tabla adjunta muestra uno de los resultados del proceso de Reforma Agraria en Chile, el cual está directamente relacionado con uno de los propósitos que se plantearon para impulsar este proceso. De acuerdo a la información de la tabla, ¿en qué consistía este propósito?

- A) En expandir la frontera agrícola al sur del Biobío.
- B) En reducir las importaciones de alimentos.
- C) En mejorar las condiciones de vida de los campesinos.
- D) En transformar en propietarios a los campesinos sin tierra.
- E) En volver productivas las tierras abandonadas o mal explotadas.

61. En los primeros días posteriores al Golpe de Estado, la Junta Militar estableció una serie de medidas a través de bandos y decretos, los que determinaban cómo funcionaría el país bajo el mandato de los militares. A continuación se resumen los primeros bandos y decretos de la Junta Militar:

- 11 septiembre 1973 Bando N° 5. Informa que la Junta Militar ha asumido el poder y destituido al gobierno, y las razones de esta acción.
- 11 septiembre 1973 Bando N° 15. Se decreta la censura de prensa y la clausura de la mayoría de los medios de comunicación. Se crea la Oficina de Censura de Prensa.
- 11 septiembre 1973 Decreto ley N° 1. Anuncia la constitución de la Junta Militar y decreta que asume el mando supremo de la nación, con Augusto Pinochet como su presidente (más adelante, el 12 de noviembre aclara que el mando supremo corresponde a los poderes constituyente, legislativo y ejecutivo).
- 12 septiembre 1973 Decreto ley N° 3. Se declara Estado de Sitio.
- 14 septiembre 1973 Bando N° 29. Decreta la clausura del Congreso y declara vacante todos sus cargos.
- 17 septiembre 1973 Decreto ley N° 12. Declara la ilegalidad de la Central Única de Trabajadores (CUT).
- 13 noviembre 1973 Decreto ley N° 130. Se declara la caducidad de todos los Registros Electorales

¿Con qué característica del periodo de la Dictadura Militar se relacionan las formulaciones contenidas en el texto anterior?

- A) Con la suspensión de derechos civiles y políticos.
- B) Con la distribución del poder estatal en diferentes órganos.
- C) Con la concentración del poder a fin de evitar arbitrariedades.
- D) Con la legitimación de la administración mediante reformas constitucionales.
- E) Con la supresión de los tribunales de justicia en tiempo de anormalidad constitucional.

62. La Dictadura Militar chilena se caracterizó, entre otros aspectos, por las sistemáticas violaciones a los Derechos Humanos cometidas por parte de agentes del Estado. Una vez restituido el régimen democrático, ¿de qué forma los gobiernos elegidos a partir de 1990 abordaron dicha materia?

- I) Mediante el juicio y la condena a los diferentes comandantes en jefe de las Fuerzas Armadas.
- II) Llevando a cabo investigaciones para esclarecer lo ocurrido durante el periodo, materializadas en los Informes conocidos como Rettig y Valech.
- III) Por medio del establecimiento de mecanismos de reparación para las víctimas del régimen.

- A) Solo I
- B) Solo II
- C) Solo III
- D) Solo I y II
- E) Solo II y III

63. La transición a la Democracia en Chile implicó diversos acercamientos y acuerdos políticos entre los opositores a la Dictadura Militar. En este contexto, ¿cuál de las siguientes acciones llevó a cabo la Concertación de Partidos por la Democracia a fines de la década de 1980?

- A) Utilizaron la vía constitucional para participar en elecciones presidenciales.
- B) Promovieron el uso de acciones armadas para desestabilizar al gobierno.
- C) Impulsaron la realización de un plebiscito para reformar la Constitución.
- D) Pidieron la intervención de grupos extranjeros para derrocar al gobierno.
- E) Acudieron a los tribunales para anular los resultados de las votaciones.

64. En el último cuarto del siglo XX se desarrollaron procesos económicos y políticos de gran relevancia como el colapso de la Unión de Repúblicas Socialistas Soviéticas. ¿Cuál es uno de los elementos que explica este hecho histórico?
- A) El fin de la gerontocracia (gobierno de ancianos) lo que significó que se perdiera la experiencia acumulada.
 - B) La crisis del petróleo que empobreció al país afectando irremediablemente la economía soviética.
 - C) Las reformas para una mayor transparencia y la reestructuración de la economía que golpeó a un sistema estancado y burocratizado.
 - D) El constante fortalecimiento de la identidad soviética por sobre las identidades nacionales que conllevó a la unidad del país.
 - E) El aumento en el control fronterizo que debilitó la identidad soviética.
65. Al desintegrarse la Unión Soviética se inició un periodo caracterizado por nuevas formas de articulación de la política y las relaciones internacionales alrededor del mundo. En relación a ello, ¿cuál fue una de las características de los vínculos establecidos durante la década de 1990?
- A) La conformación de un mundo bipolar representado por la Unión Europea y EE.UU.
 - B) Un nuevo equilibrio sustentado en los bloques antagónicos de China y EE.UU.
 - C) El desarrollo de un capitalismo basado en el Estado de Bienestar y liderado por EE.UU.
 - D) La articulación de un nuevo socialismo que se convirtió en el modelo de desarrollo aplicado en los países latinoamericanos aliados de EE.UU.
 - E) La estructuración de un contexto histórico en el cual EE.UU. ejerció como la potencia hegemónica del mundo.
66. En Chile, durante la década de 1990, los gobiernos de la Concertación mantuvieron el modelo económico de características neoliberales. ¿Cuál fue una de las críticas que se le hizo a este modelo en el periodo aludido?
- A) La dificultad para reducir la indigencia debido al descenso de los ingresos.
 - B) El aumento significativo del índice de inflación en el país.
 - C) La eliminación de las políticas sociales a causa del déficit fiscal.
 - D) El estancamiento sostenido del crecimiento económico.
 - E) La inequidad en la distribución del ingreso a nivel nacional.

67. “A partir de los años 1992-93 comienza un plan de concesiones de obras a través de capitales privados que permitiera cumplir con este requerimiento esencial [...]. Con la inversión privada se adjudicaron diversos proyectos, entre otros: la autopista de La Serena a Puerto Montt con unos 1500 kms. en 8 concesiones, Nueva Ruta 78: Santiago–San Antonio, Ruta 68: Santiago–Valparaíso–Viña del Mar y Troncal Sur en el Valle del Aconcagua; Ruta de la Madera y Acceso Norte Concepción, estas dos últimas en la VIII Región. Además, se ha renovado y ampliado prácticamente todos nuestros aeropuertos, por lo que hoy se operan por concesión los de Santiago, Iquique, Antofagasta, Calama, La Serena, Concepción, Puerto Montt y Punta Arenas”. (www.mop.cl).

La cita anterior corresponde a una descripción sobre el sistema de concesiones que desarrolló el Ministerio de Obras Públicas (MOP) a comienzos de la década de 1990 en Chile. A partir del análisis de la cita, ¿cuál fue una de las finalidades principales que tuvo esta política?

- A) Favorecer el control estatal en la administración de los recursos generados por el turismo nacional.
- B) Impulsar el mejoramiento de diversas vías de comunicación para favorecer el traslado de bienes y personas.
- C) Alejarse de la estructura del modelo económico neoliberal implementado en las décadas anteriores.
- D) Promover la concentración demográfica en los centros urbanos a lo largo de todo el país.
- E) Consolidar el protagonismo del Estado en la construcción y manejo de las principales carreteras del país.

68. El proceso de globalización se caracteriza por el aumento del comercio internacional y la mayor competitividad entre las empresas multinacionales. Esta situación ha provocado que las transnacionales cierren algunas de sus fábricas en los países desarrollados y abran filiales en países en vías de desarrollo. De acuerdo a lo anterior, ¿cuál es uno de los beneficios que obtienen las empresas transnacionales al trasladarse a estos países?

- A) Generan mayores beneficios salariales para sus empleados.
- B) Absorben la mano de obra altamente calificada.
- C) Abaratan los costos de los procesos productivos.
- D) Mejoran la calidad de vida de la población.
- E) Reducen los niveles de contaminación.

69. En el contexto de la globalización actual, las economías latinoamericanas han optado por una estrategia de integración marcada por un fuerte protagonismo del sector dedicado a la explotación de recursos naturales. En este sentido, para las economías latinoamericanas, ¿cuál es un desafío derivado directamente de este escenario?

- A) Mejorar la participación del Estado en los sistemas educativos.
- B) Equilibrar competitividad, crecimiento y desarrollo sustentable.
- C) Disminuir la inversión exterior directa en sectores estratégicos.
- D) Aumentar las medidas proteccionistas en los diferentes rubros.
- E) Desacelerar la explotación de recursos naturales no renovables.

70.



(<https://www.jrmora.com/>)

La imagen anterior refleja la transformación tecnológica que han experimentado los medios de comunicación en el mundo actual. En este contexto y a partir de la imagen, ¿cuál es una característica de dicha transformación?

- A) La multifuncionalidad que presentan gran parte de los aparatos tecnológicos.
- B) La eliminación de los medios de comunicación utilizados tradicionalmente.
- C) La disminución en la capacidad de almacenamiento de información en los equipos tecnológicos.
- D) La inviolabilidad de la información confidencial almacenada en el ciberespacio.
- E) La completa sustitución de los equipos tecnológicos fijos por aquellos de carácter inalámbrico.

ECONOMÍA Y SOCIEDAD

71. En el sistema económico mundial, ¿qué propósito(s) se persigue(n) con el establecimiento de relaciones comerciales con otros países?

- I) Dinamizar el mercado de exportación.
- II) Extender la inversión de capitales en el exterior.
- III) Incrementar los impuestos a los productos importados.

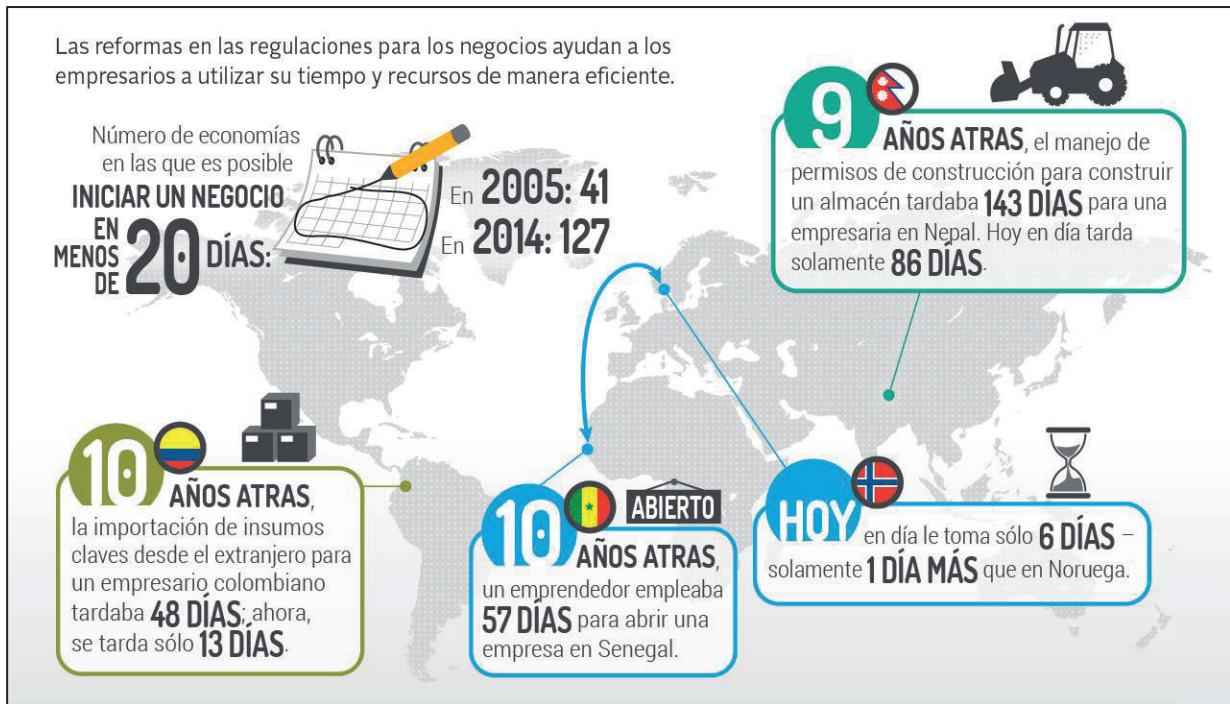
- A) Solo II
- B) Solo I y II
- C) Solo I y III
- D) Solo II y III
- E) I, II y III

72. “Este fenómeno de la movilidad y flexibilidad de los recursos productivos hay que contemplarlo dentro de la lógica del capitalismo *non stop* [sin pausa]. Se trata de la posibilidad real que tienen y defienden las empresas para poder trasladar aquella parte, o varias, de su actividad productiva de un lugar a otro del planeta, y de acuerdo con sus objetivos globales. Las causas de este traslado se deben a que, en el país de llegada, la empresa espera encontrar [...], ninguna regulación de tipo laboral o ambiental, una fiscalidad suave o nula, facilidad de repatriación de los beneficios, etc., con respecto al país de abandono”. (José Iglesias Fernández, **Contra la deslocalización, nacionalización y control obrero. Algunas reflexiones surgidas a raíz del caso Delphi**, 2007).

El texto anterior se refiere a un caso de deslocalización empresarial, práctica que se utiliza en el mundo globalizado actual. Al respecto, ¿cuál es uno de los efectos económicos directos que provoca esta deslocalización en la empresa?

- A) Menores costos de producción para los empresarios que recurren a este procedimiento.
- B) Estabilidad laboral y aumento de los puestos de trabajo en el lugar de origen de la empresa.
- C) Incremento de los precios de sus productos por los mayores costos de transporte.
- D) Reducción de la diversidad de productos en los mercados internacionales.
- E) Aumento de las iniciativas empresariales en los países en que se elaboran los productos.

73. BANCO MUNDIAL: MEDICIONES DE LAS REGULACIONES PARA HACER NEGOCIOS, 2015



(www.bancomundial.org/es/news/feature/2014/10/28/infographic)

La gráfica anterior elaborada por el Banco Mundial en 2015 representa algunos de los resultados de la medición de las regulaciones para hacer negocios en 189 economías del mundo. Considerando dicha información, ¿qué conclusión(es) es correcto establecer respecto del comportamiento de la economía mundial?

- I) Las políticas de apertura económica, a nivel global, se han debilitado.
 - II) Existen países del mundo no desarrollado que están liberalizando su economía.
 - III) Los países subdesarrollados han diversificado sus economías.
- A) Solo II
 - B) Solo III
 - C) Solo I y II
 - D) Solo II y III
 - E) I, II y III

74. Actualmente, unas pocas ciudades concentran la toma de decisiones económicas a nivel mundial. Este fenómeno se relaciona con el concepto de ciudades globales. Al respecto, ¿cuál es el factor determinante para explicar la existencia de las denominadas ciudades globales?
- A) El crecimiento acelerado de su población.
 - B) El aumento de la extensión territorial.
 - C) La concentración del sistema financiero.
 - D) La consolidación de un modelo político democrático.
 - E) El surgimiento de centros comerciales en áreas metropolitanas.
75. América Latina y El Caribe conforman una región que históricamente ha seguido patrones similares en lo económico. En este ámbito, ¿cuál es una de las características de esta región a inicios del siglo XXI?
- A) El desarrollo de una industria tecnológica reconocida en todo el mundo.
 - B) La mayor concentración de sus exportaciones en el sector primario.
 - C) La dependencia casi exclusiva de sus recursos turísticos.
 - D) El predominio del sector manufacturero en la generación de empleo.
 - E) La homogeneidad de los productos internos brutos nacionales.
76. En el actual contexto de economía global, Chile ha implementado una serie de medidas tendientes a potenciar su crecimiento y desarrollo económico, estableciendo para ello, estrechos vínculos económicos, políticos y culturales con el resto de las economías mundiales. En relación con lo anterior, ¿cuál de las siguientes medidas ha sido implementada por el Estado chileno para alcanzar una mejor inserción en el contexto económico mundial?
- A) Potenciar la inversión directa de recursos estatales en el sector agroindustrial exportador.
 - B) Fomentar la productividad mediante políticas públicas que estimulen la inmigración.
 - C) Aumentar sostenidamente los aranceles de los diversos productos importados.
 - D) Diversificar la producción de bienes y servicios destinados al comercio internacional.
 - E) Promover la elaboración de bienes de consumo durables para satisfacer la demanda interna.

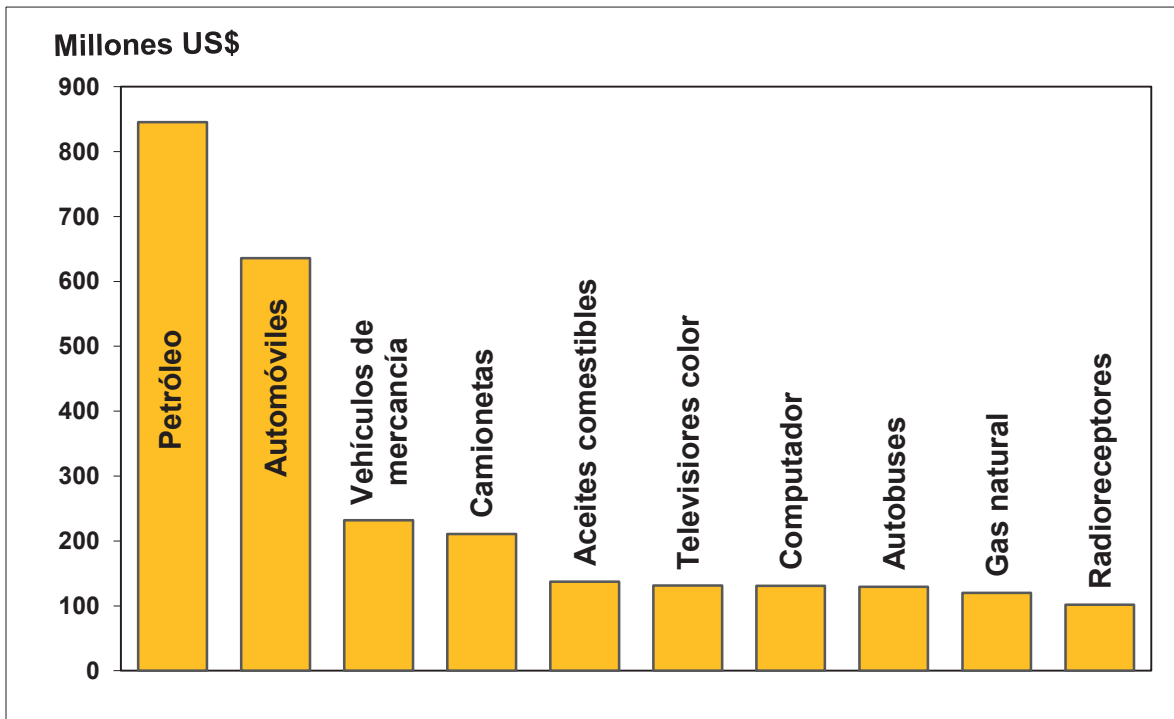
77. A inicios de la década de 1990 en Chile, según datos del Banco Central, el 75% de las trece regiones existentes, obtenía menos de mil millones de dólares anuales por concepto de exportaciones. A partir del año 2003 ocho regiones superaron esa cifra. ¿Cuál de los siguientes factores explica este incremento?
- A) El descenso de la competitividad de los países del Mercosur.
 - B) La baja en los costos de producción de bienes de capital regionales.
 - C) El incremento en la demanda regional por bienes manufacturados.
 - D) El cese de barreras aduaneras a las exportaciones regionales en Europa.
 - E) El aumento de la demanda mundial por recursos mineros y silvoagropecuarios.
78. En las últimas tres décadas Chile ha firmado y ratificado numerosos acuerdos comerciales, con países que representan el 64% de la población mundial y el 83,3% del PIB global. En este contexto, ¿cuál es el principal beneficio que ha obtenido la población chilena con estos acuerdos?
- A) Una mayor facilidad para radicarse en los países desarrollados.
 - B) Una mayor participación en el diseño de las políticas públicas.
 - C) Un acceso a una gran variedad de productos a bajos precios.
 - D) Un notorio mejoramiento en el ámbito de la seguridad social.
 - E) Un incremento significativo en el monto del salario mínimo.
79. “Los sectores ‘integrados’ por la vía del consumo, derivado de sus ingresos o por el efecto de la gigantesca masificación del crédito, cubren casi todo el espectro social. El crédito permite desarrollar estrategias de mejoramiento de las condiciones de vida, ensayar diferentes modalidades de conquista del ‘confort’. No son, en sentido estricto, estrategias de movilidad social, pues que el efecto de su despliegue no es un cambio de estrato”. (Tomás Moulian, **Chile actual. Anatomía de un mito**).

De acuerdo al texto anterior, ¿cuál de las siguientes situaciones es una transformación económica de las últimas décadas que ha afectado a gran parte de la población chilena?

- A) La permanente precarización de las condiciones de trabajo.
- B) La pérdida de credibilidad en las organizaciones financieras.
- C) La utilización del endeudamiento para financiar la adquisición de bienes.
- D) La reducción de las desigualdades socioeconómicas en la población.
- E) El mejoramiento del estatus social vinculado al empleo.

80.

IMPORTACIONES CHILENAS EN EL AÑO 2000



(Instituto Geográfico Militar, **Atlas Geográfico de Chile**, 2002)

El gráfico anterior, muestra el monto de las importaciones chilenas en millones de dólares en el año 2000. De su análisis y considerando los rasgos del comercio exterior chileno, ¿cuál fue uno de los aspectos característicos de las importaciones nacionales en el año aludido?

- A) El predominio de recursos renovables para manufacturas.
- B) La gran variedad de productos energéticos.
- C) La inexistencia de productos alimenticios.
- D) La diversidad de productos para transporte.
- E) La escasez de aparatos tecnológicos.

